


ENTRENA TU MENTE

+ 8



**Matemáticas
y lógica**

**Inteligencia
espacial**



**Flexibilidad
cognitiva**

**Conciencia
emocional**




Disney



**ENTRENA
TU
MENTE**

+8




© 2022 Disney Enterprises, Inc.
Todos los derechos reservados
Propiedades de Pixar © 2022 Disney/Pixar

Toddle Tots® de Little Tikes®
Mr. Potato Head® © Hasbro, Inc.
La película *Tiana y el sapo* ©2009 Disney. Inspirada parcialmente en el libro
The Frog Princess, de E. D. Baker; © 2002 Bloomsbury Publishing, Inc.
Publicado en España por Editorial Planeta, S. A., 2022
Avda. Diagonal, 662-664, 08034 Barcelona (España)
www.planetadelibrosinfantilyjuvenil.com
www.planetadelibros.com
Publicado en mayo de 2022
ISBN: 978-84-18939-72-3
Depósito legal: B. 6.331-2022
Impreso en España

El papel utilizado para la impresión de este libro está calificado como
papel ecológico y procede de bosques gestionados de manera sostenible.

No se permite la reproducción total o parcial de este libro, ni su incorporación a un sistema informático, ni su transmisión
en cualquier forma o por cualquier medio, sea este electrónico, mecánico, por fotocopia, por grabación u otros métodos,
sin el permiso previo y por escrito del editor. La infracción de los derechos mencionados puede ser constitutiva de delito
contra la propiedad intelectual (Art. 270 y siguientes del Código Penal).

Diríjase a CEDRO (Centro Español de Derechos Reprográficos) si necesita fotocopiar o escanear algún fragmento de esta obra.
Puede contactar con CEDRO a través de la web www.conlicencia.com o por teléfono en el 91 702 19 70 / 93 272 04 47.



CUENTAPUERTAS


Monstruos, S.A. ha recibido un pedido de varios modelos de puertas, pero, antes de colgarlas, Sulley y sus colegas tienen que contarlas. **Haz tus cálculos para averiguar cuántas hay de cada modelo y, después, cuántas hay en total.**


$$\begin{array}{c} \text{Puerta decorada} \\ + \\ \text{Puerta decorada} \\ + \\ \text{Puerta decorada} \\ = \end{array} \quad \text{15}$$




$$\begin{array}{c} \text{Puerta decorada} \\ + \\ \text{Puerta con vidrios} \\ + \\ \text{Puerta con vidrios} \\ = \end{array} \quad \text{25}$$






Haz aquí tus cálculos:




 $+$  $+$  $=$ **23**

 $+$  $+$  $=$



 $+$ $+$  $+$ $+$  $+$ $=$

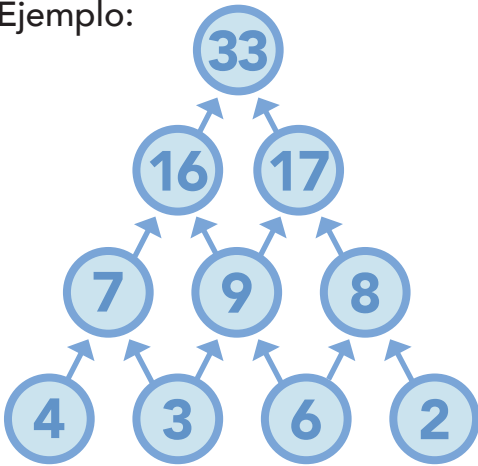
Puertas en total:




UNA MONTAÑA DE NÚMEROS

Anna y Elsa intentan llegar a la cumbre de la Montaña del Norte, pero con tanta nieve no es fácil encontrar el camino. **Completa los círculos vacíos, teniendo en cuenta que el número de cada uno es la suma de los dos números que quedan justo debajo.**



Ejemplo:






LA COMPRA DE TIANA

Tiana y Naveen hacen la compra para el restaurante. Para la cena de esta noche, Tiana tiene que comprar más cebollas que lechugas, menos zanahorias que tomates, y tantas zanahorias como la suma de cebollas y lechugas. **Dibuja las cuatro hortalizas en las casillas, ordenadas según las instrucciones.**



COMPRAR MENOS



COMPRAR MÁS



Lista de la compra:





LOS PÁJAROS DEL CIELO

Vaiana va a la playa con Pua y Heihei para ver las aves marinas. Cada vez que ve uno o más pájaros, escribe el número en la arena. Pero Vaiana se distrae y deja un espacio vacío. **Completa el espacio y luego suma todos los pájaros para averiguar cuántos ha visto en total.**

PISTA: La cantidad de pájaros sigue una secuencia determinada. Observa el ejemplo del final de la página antes de resolver el acertijo.



Pájaros en total:

Ejemplo: En esta secuencia falta el 9, porque se suma dos a cada número para obtener el siguiente (1 + 2 = 3; 3 + 2 = 5, etc.).

1-3-5-7-?-11

